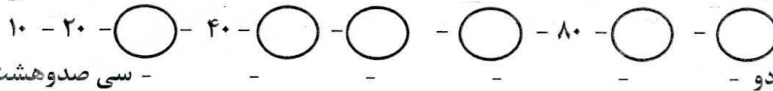


به نام حق **آزمون پایانی ریاضی پایه: دوم** کلاس: دوم دبستان غیردولتی هادی
 نام و نام خانوادگی: معلم مربوطه: خانم محمدی نژاد مورخه ۱۳۹۱/ شهرستان: هرسنان

۱- نوشتن عدد را ادامه بدهید؟

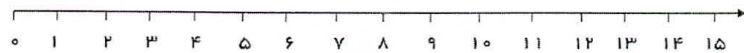


سی صد و یک - سی صد و دو - سی صد و هشت

۲- با رقم های ۳، ۸، ۹، نامی توانید عدد های سه رقمی بنویسید.

۳- با استفاده از محور اعداد حاصل عبارت را پیدا کنید.

$9 + 6 - 4$ ○



$2 - 6 - 8 - - - - -$

۴- الگوی عددی زیر را ادامه بده.

۵- حاصل جمع ها و تفریق های زیر را به دست بیاورید.

$7 + 30 + 2 + 100 = \bigcirc$ $12 - 4 = \bigcirc$ $70 - 20 = \bigcirc$ $500 + 300 = \bigcirc$

۶- جاهای خالی را کامل کن.

..... دسته ده تایی به اضافه دسته ده تایی می شود ده تایی. یعنی $50 + 30 = \dots\dots\dots$

۷- نام این شکل ها را همراه با تعداد ضلع هایشان بنویس.



..... ضلع



..... ضلع



..... ضلع




..... ضلع

۸- برای هر شکل یک خط تقارن بکش.



۹- ارزش سکه های هر قسمت را بنویس.



ریال



ریال



ریال

۱۰- به سوالات زیر پاسخ بده.



ساعت چند است؟

۳۰ دقیقه بعد از ساعت ۷:۰۰ چند است؟

۲۰ دقیقه بعد از ساعت ۶:۱۵ چند است؟

یکان | دهگان | صدگان

۱۱- ۴ دسته صد تایی ۳ دسته ده تایی و ۸ یکی می شود.

۱۲- اندازه خط های زیر را با خط کش بگیرید و به صورت سانتی متر و میلی متر بنویسید.

اندازه ی خط سانتی متر و میلی متر است .

۱۳- برای شکل های زیر جملات را کامل کن.



..... از قسمت مساوی رنگ شده است. از قسمت مساوی رنگ شده است.

۱۴- جواب جمع و تفریق ها را به سه روش مختلف به دست آورید.

<p>تقریبی</p> <p>۸۷ → +۴۳ → +</p>	<p>تکنیکی</p> <p>۷۳۴ -۲۱۶</p> <p>(با انتقال)</p>	<p>فرایندی</p> <p>۳۶۲ +۱۲۵ + +</p> <p>(از سمت صدگان)</p>
---	--	--

۱۵- با اعداد مناسب کامل کن.



..... دسته تایی می شود

۹۸ ○ ۷۶

۳۷۹ ○ ۷۹۳

..... = ۴۰۰ - ۱۰۰ ○ ۲۰۰ + ۲۰۰ =

۱۷- با میلی متر اندازه گیری کنید.




..... میلی متر

..... میلی متر



..... میلی متر

۱۸- تعداد گل های باغچه ی ماهان به صورت جدول زیر است، این اطلاعات را با نمودار ستونی نشان بده.



هر گل را با شکل رسم کنید

۳	محمدی
۵	یاس
۸	نرگس
۶	رز
۲	بنفشه

گل های شاداب من موفق باشید .

بازخورد معلم :